

**ŠKOLSKO/OPĆINSKO/GRADSKO NATJECANJE IZ GEOGRAFIJE
2017. GODINE**

Razred ili kategorija natjecanja: **8. razred**

Zaporka

--	--	--	--	--

Broj postignutih bodova ____ / 70

Potpis članova Školskog povjerenstva

1. _____

2. _____

3. _____

Mjesto i nadnevak: _____

Za rješavanje zadataka predviđeno je 60 minuta.

Ispit se rješava kemijskom olovkom s plavom tintom koja se ne briše. Uporaba obične olovke i crvene ili neke druge boje tinte (osim plave) rezultira diskvalifikacijom učenika.

Pri rješavanju ispita treba primijeniti jezičnu normu standardnoga hrvatskoga jezika, posebice treba poštivati pravopisna pravila o pisanju velikoga i maloga početnog slova geografskih imena. Za pisanje geografskih imena u ispitima i praktičnim radovima primjenjuje se Hrvatski pravopis Instituta za hrvatski jezik i jezikoslovlje (2013.).

Odgovori učenika moraju biti čitljivo napisani pisanim slovima, jedino u zadacima u kojima je odgovor jedno slovo dopuštena je uporaba čitljivo napisanog velikog tiskanog slova.

Za vrijeme pisanja ispita ne smije se koristiti ništa osim navedenoga pribora za pisanje. Ova odredba podrazumijeva da natjecatelji ne smiju kod sebe (na sebi, ispod, u svojoj odjeći i slično) imati predmete koji na bilo koji način mogu dovesti u sumnju pravilno provođenje natjecanja. Učenici se ne smiju služiti atlasom, zidnom kartom ni računalom. Kartografski i grafički prilozi nužni za rješavanje zadataka sastavni su dio ispita.

Učenicima se dopušta pisanje po marginama i praznim stranicama ispitnog materijala bez oduzimanja bodova i/ili diskvalifikacije.

Potpuno ispravno riješeni zadatci, prema uputi za rješavanje vrednuju se s jednim, dva ili tri boda. U djelomično ispravno riješenim zadacima boduju se ispravno riješene čestice, ako nije bilo korekcije odgovora u tim česticama. Netočno riješeni zadatci i naknadno ispravljeni odgovori te odgovori koji su pisani velikim tiskanim slovima ili kombinacijom tiskanih i pisanih slova, kao i odgovori u zagradama ne vrednuju se.

**U PRVIH OSAM ZADATAKA DVA SU TOČNA ODGOVORA.
ZAKRUŽI SLOVA ISPRED TOČNIH ODGOVORA.**

- 2** 1. Koje su od navedenih tvrdnji točne o hrvatskoj himni?
a) Budnica Horvatska domovina iz koje je preuzet tekst himne napisana je u 19. stoljeću.
b) Himnu je napisao Josip Runjanin, a uglazbio Antun Mihanović.
c) U tekstu himne spominje se Hrvatski narodni preporod.
d) Himna ima pet strofa.
e) Spomenik posvećen himni nalazi se u Zelenjaku u Hrvatskom zagorju.
- 2** 2. Kojim od navedenih uzvisina prolazi granica između Slovenije i Hrvatske?
a) Maceljskim gorjem b) Ivanšćicom c) Učkom d) Risnjakom e) Žumberačkom gorom
- 2** 3. Koje vrste taložnih stijena grade krški reljef u Hrvatskoj?
a) pješčenjak b) dolomit c) prapor d) vapnenac e) lapor
- 2** 4. U kojima od navedenih dijelova Hrvatske nalazimo lesne zaravni?
a) zapadna Slavonija b) istočna Slavonija c) Banovina d) Baranja e) Kordun
- 2** 5. Na kojima od navedenih otoka je zastupljena sredozemna klima s vrućim ljetom?
a) Pag b) Pašman c) Brač d) Rab e) Cres
- 2** 6. U kojima su od navedenih dijelova Hrvatske najzastupljenija aluvijalna tla?
a) Požeška kotlina b) Podravina c) Ravni kotari d) Kordun e) Posavina
- 2** 7. Koje od navedenih rijeka pripadaju porječju rijeke Kupe?
a) Glina b) Sutla c) Mrežnica d) Una e) Ilova
- 2** 8. Koja se od navedenih umjetnih jezera nalaze na teritoriju Gorskog kotara?
a) Sabljaki b) Krušćičko jezero c) Peručko jezero d) Lokvarsko jezero e) Ormoško jezero

**U SLJEDEĆEM ZADATKU JEDAN JE TOČAN ODGOVOR.
ZAKRUŽI SLOVO ISPRED TOČNOG ODGOVORA.**

- 1** 9. Koja vrsta hrasta danas zauzima najveći udio površine Panonske Hrvatske?
a) hrast crnika b) hrast medunac c) hrast kitnjak d) hrast lužnjak

**U SLJEDEĆEM ZADATKU TRI SU NETOČNA POJMA. PRONAĐI U TEKSTU NETOČNE
POJMOVE, UPIŠI IH U PRVI STUPAC TABLICE, A U ISTI RED U DRUGI STUPAC UPIŠI
TOČNE POJMOVE.**

- 3** 10. Pažljivo pročitaj tekst o najsjevernijoj točki Hrvatske i riješi zadatak kao što je napisano u napatku.
Najsjevernija točka Hrvatske (46° 33' sjeverne geografske širine) zove se Žabnik i smjestila se u blizini naselja Sveti Martin na Dravi. Najsjevernija točka Hrvatske nalazi se u Varaždinskoj županiji na granici prema Mađarskoj.

NETOČAN POJAM	TOČAN POJAM

**U SLJEDEĆA TRI ZADATKA POVEŽI PAROVE UPISIVANJEM SLOVA NA CRTU ISPRED
PONUĐENIH ODGOVORA. TRI CRTE MORAJU OSTATI PRAZNE.**

- 2** **11.** Navedena neposredna mjerila poveži s pripadajućim brojčanim mjerilima.
A) 1 centimetar na karti je 100 metara u stvarnosti B) 1 centimetar na karti je 10 kilometara u stvarnosti
 _____ 1 : 1000 _____ 1 : 10 000 _____ 1 : 100 000 _____ 1 : 1 000 000 _____ 1 : 10 000 000

- 2** **12.** Navedena imena rijeka kratkih tokova i snažnih vrela poveži s imenima gradova za čiju su vodoopskrbu važne.
A) Ombla B) Rječina
 _____ Dubrovnik _____ Pula _____ Rijeka _____ Split _____ Zadar

- 2** **13.** Navedene opise jezera poveži s njihovim imenima.
A) kriptodepresija kod Ploča B) kriptodepresija na otoku Cresu
 _____ Crveno jezero _____ Vransko jezero _____ Modro jezero
 _____ Baćinska jezera _____ Prukljansko jezero

**U SVAKOM OD SLJEDEĆA DVA ZADATKA POREDAJ ODGOVORE UPISIVANJEM BROJEVA
OD 1 DO 4 NA CRTE IZA FORMULACIJA.**

- 1** **14.** Poredaj navedena krška polja od sjevera prema jugu, tako da na crtu iza najsjevernijeg krškog polja upišeš broj 1, a iza najjužnijeg upišeš broj 4.

Imotsko polje _____	Sinjsko polje _____
Gacko polje _____	Ličko polje _____

- 1** **15.** Poredaj navedene meteorološke postaje prema godišnjoj količini padalina od najveće do najmanje količine, tako da na crtu iza imena postaje koja prima najveću godišnju količinu padalina upišeš broj 1, a iza imena postaje koja prima najmanju godišnju količinu padalina upišeš broj 4.

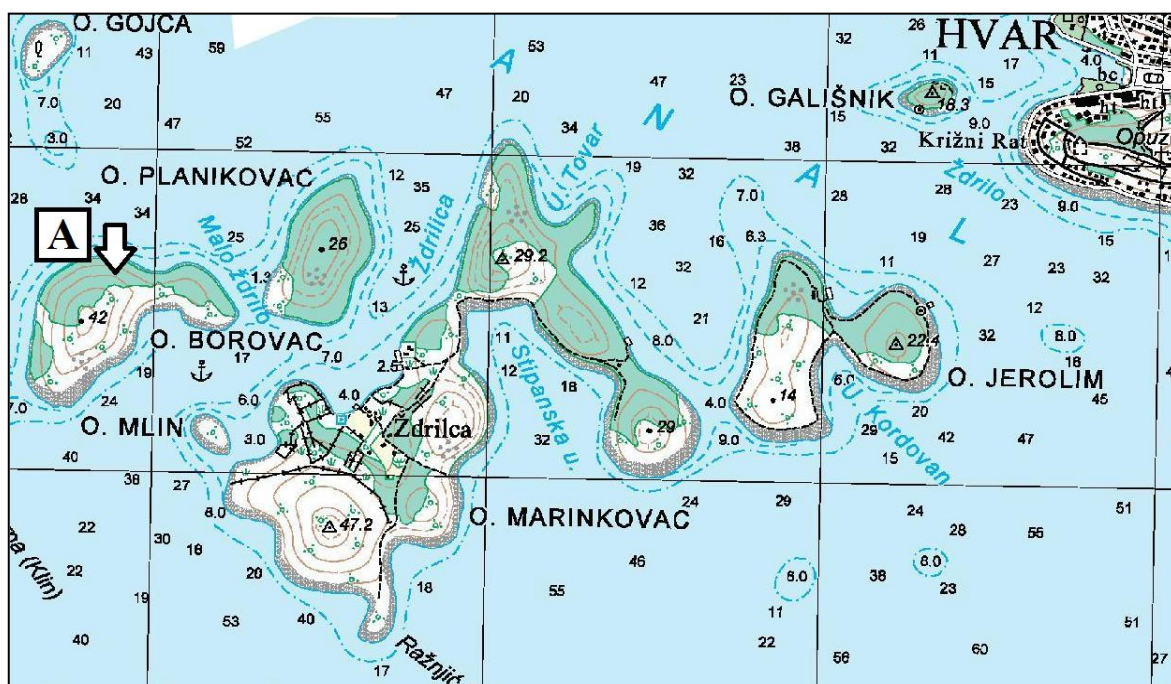
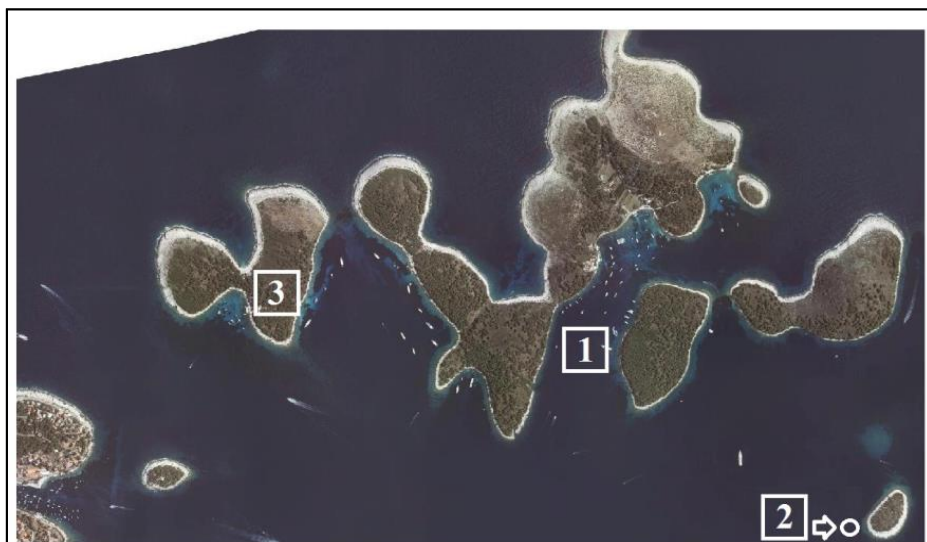
Komiža na otoku Visu _____	otok Palagruža _____
Hvar na otoku Hvaru _____	Makarska _____

**U SLJEDEĆA DVA ZADATKA POVEŽI STUPCE UPISIVANJEM PRIPADAJUĆEG SLOVA I
BROJA NA CRTU ISPRED POJMOVA U LIJEVOM STUPCU. JEDAN POJAM U SREDNJEM I
DESNOM STUPCU NE MOGU SE POVEZATI.**

- 3** **16.** Poveži visinski razred s njegovim nazivom i reljefnom cjelinom.
- | | | |
|--------------------|-----------------------|------------------------|
| _____ 0 - 200 m | A - planina | 1 - Učka |
| _____ 201 - 500 m | B - nizina | 2 - Crnac polje |
| _____ 501 - 1000 m | C - sredogorje | 3 - Dilj |
| | D - pobrđe | 4 - Krndija |

- 3** **17.** Poveži ime rijeke s pripadajućom riječnom lukom i njenim neposrednim pritokom.
- | | | |
|-------------|---------------------|-------------------|
| _____ Sava | A - Vukovar | 1 - Korana |
| _____ Drava | B - Sisak | 2 - Vuka |
| _____ Dunav | C - Vinkovci | 3 - Bednja |
| | D - Osijek | 4 - Orlava |

SLJEDEĆA DVA ZADATKA
RIJEŠI UZ POMOĆ
PRILOŽENOG DOF-a
(DIGITALNI ORTO FOTO) I
ISJEČKA TOPOGRAFSKE
KARTE U MJERILU 1 : 25 000
GRADA HVARA I DIJELA
PAKLENIH OTOKA.



- 3** 18. Ime morskog prolaza koji je na priloženom DOF-u označen brojem 1 je _____ . Dubina mjesta na priloženom DOF-u označenog kružićem, strelicom i brojem 2 iznosi _____ m. Ime otoka na priloženom DOF-u označenog brojem 3 je _____ .
- 3** 19. Naziv linijskog topografskog znaka označenog na priloženoj topografskoj karti slovom A i strelicom je _____ . Ekvidistanca na priloženoj topografskoj karti iznosi _____ m. Ime otoka na kojem se nalazi najviša trigonometrijska točka na Paklenim otocima je _____ .

U SLJEDEĆA DVA ZADATKA DOPUNI REČENICE.

- 1** 20. Azimut jugozapada iznosi _____ stupnjeva.
- 1** 21. Naziv za transgresijom mora potopljeno nekadašnje riječno ušće strmih obala poput Linskog zaljeva je _____ .

**SLJEDEĆA TRI ZADATKA RIJEŠI UZ POMOĆ
PRILOŽENE GEOGRAFSKE KARTE GORSKE
HRVATSKE I DIJELA PRIMORSKE HRVATSKE.**

- 2 22. Na crte iza brojeva upiši imena planina označenih na priloženoj karti crnim površinama i brojevima 1 i 2.

1 _____

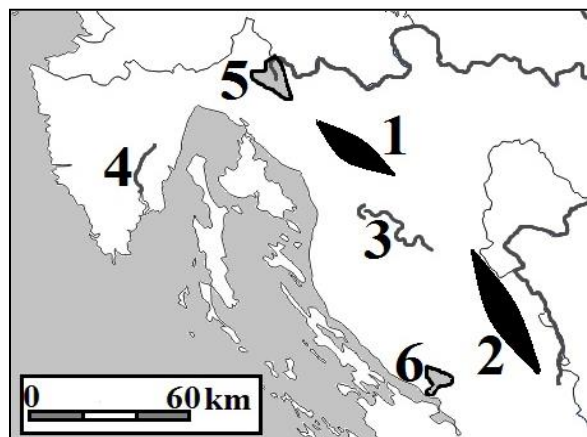
2 _____

- 2 23. Na crte iza brojeva upiši imena rijeka označenih na priloženoj karti brojevima 3 i 4.

3 _____ 4 _____

- 2 24. Na crte iza brojeva upiši službena imena zaštićenih područja označenih na priloženoj karti sivim površinama i brojevima 5 i 6.

5 _____ 6 _____



**SLJEDEĆA TRI ZADATKA RIJEŠI UZ POMOĆ
PRILOŽENE GEOGRAFSKE KARTE DIJELA
PRIMORSKE HRVATSKE.**

- 2 25. Na crte iza brojeva upiši imena planina označenih na priloženoj karti crnim površinama i brojevima 1 i 2.

1 _____

2 _____

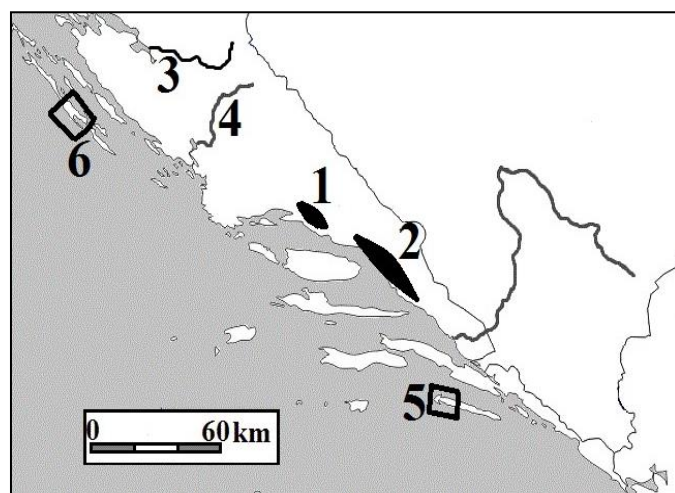
- 2 26. Na crte iza brojeva upiši imena rijeka označenih na priloženoj karti brojevima 3 i 4.

3 _____

4 _____

- 2 27. Na crte iza brojeva upiši službena imena zaštićenih područja označenih na priloženoj karti uokvirenim površinama i brojevima 5 i 6.

5 _____ 6 _____



**SLJEDEĆA TRI ZADATKA RIJEŠI UZ POMOĆ
PRILOŽENE GEOGRAFSKE KARTE
PANONSKE HRVATSKE.**

- 2 28. Na crte iza brojeva upiši imena gora označenih na priloženoj karti crnim površinama i brojevima 1 i 2.

1 _____

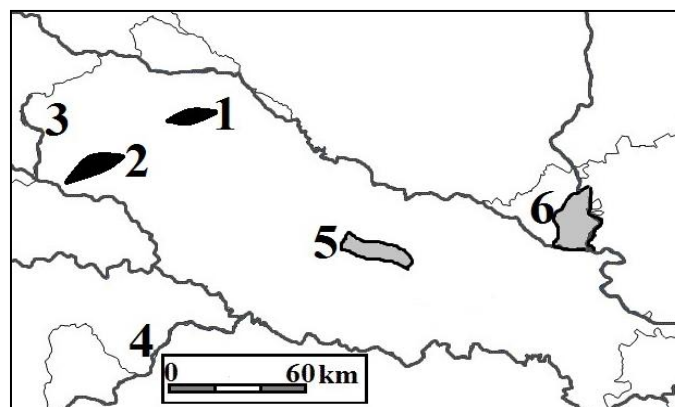
2 _____

- 2 29. Na crte iza brojeva upiši imena rijeka označenih na priloženoj karti brojevima 3 i 4.

3 _____ 4 _____

- 2 30. Na crte iza brojeva upiši službena imena zaštićenih područja označenih na priloženoj karti sivim površinama i brojevima 5 i 6.

5 _____ 6 _____



**SLJEDEĆIH PET
ZADATAKA RIJEŠI UZ
POMOĆ PRILOŽENE
KARTE EUROPE.**



2 **31.** Odredi na kojim se geografskim koordinatama nalaze gradovi Helsinki i Dublin.

- **Helsinki:** _____ ° _____ geografske širine.
 _____ ° _____ geografske dužine.
- **Dublin:** _____ ° _____ geografske širine.
 _____ ° _____ geografske dužine.

3 **32.** Imena geografskih regija Europe na čijem kontaktu se smjestila Republika Hrvatska su _____, _____ i _____ Europa.

2 **33.** Ime države na priloženoj karti označene brojem 1 je _____, a ime istočnije smještene tradicionalne regije u kojoj je granica između Hrvatske i države označene brojem 1 određena Trianonskim mirovnim ugovorom iz 1920. godine je _____.

2 **34.** Ime države na priloženoj karti označene brojem 2 je _____, a ime rijeke koja čini najveći dio granice prema državi označenoj brojem 2 je _____.

1 **35.** Strelicama na karti označen je utjecaj jednog kulturno-civilizacijskog kruga na Hrvatsku. Njegovo ime je _____ kulturno-civilizacijski krug.